

Nome:

RA:

Obs.: Resolva as questões e justifique as respostas nas folhas de papel almaço, copiando o resultado no espaço apropriado das folhas de questões.

1ª Questão: Determine a solução forçada para a entrada $x = 10$ do sistema linear invariante no tempo BIBO estável cujo realização (A, b, c, d) é dada por

$$\dot{v} = \begin{bmatrix} 0 & 1 & 0 \\ 0 & 0 & 1 \\ -1 & -2 & -3 \end{bmatrix} v + \begin{bmatrix} 0 \\ 0 \\ 1 \end{bmatrix} x$$

$$y = [2 \quad 4 \quad 6] v + [2] x$$

2ª Questão: Determine os autovalores associados aos modos controláveis e não controláveis (justifique) para o sistema

$$\dot{v} = \begin{bmatrix} 14 & -21 \\ 2 & 1 \end{bmatrix} v + \begin{bmatrix} 3 \\ 1 \end{bmatrix} x, \quad \Delta(\lambda) = (\lambda - 7)(\lambda - 8)$$

1	
2	
3	
4	
5	
6	
7	
8	
9	
10	

3ª Questão: Para o sistema linear invariante no tempo dado abaixo, determine:

$$\dot{v} = \begin{bmatrix} 0 & 1 & 0 \\ 0 & 0 & 1 \\ -1 & -1 & -1 \end{bmatrix} v + \begin{bmatrix} 0 \\ 0 \\ \alpha \end{bmatrix} x$$

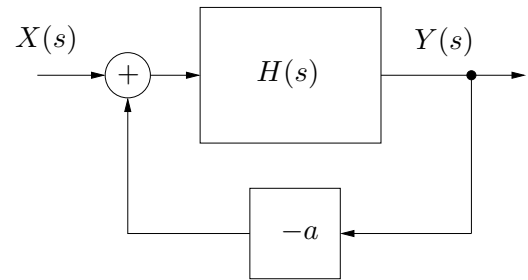
$$y = [\beta \quad \beta \quad 1] v$$

a) Os valores de α para os quais o sistema é controlável

b) Os valores de β para os quais o sistema é observável

4ª Questão: Determine a sensibilidade do ganho DC ($s = 0$) do sistema em malha fechada em função do parâmetro a , para $a = 5$

$$H(s) = \frac{s + a}{s^2 - 3as + 5a}$$

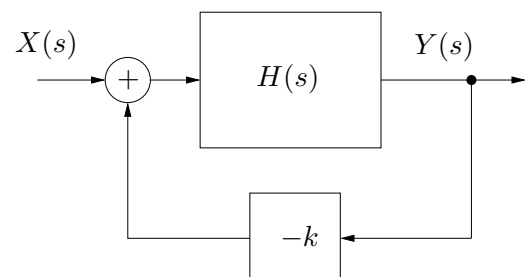


5ª Questão: Utilizando a tabela de Routh-Hurwitz, determine quantas raízes do polinômio $D(s)$ possuem parte real positiva. Justifique a resposta.

$$D(s) = s^4 + 5s^3 + 3s^2 + 2s + 2$$

6ª Questão: Determine o intervalo para $k \in [0, +\infty)$ tal que o sistema em malha fechada mostrado na figura seja BIBO estável

$$H(s) = \frac{s^2 - s}{2s^3 + 7s + 5}$$



7ª Questão: O sistema linear invariante no tempo dado abaixo é estável, assintoticamente estável ou instável? Justifique

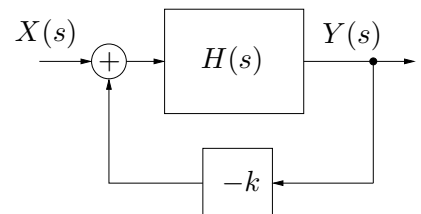
$$\dot{v} = \begin{bmatrix} 0 & 1 & 0 & 0 & 0 & 0 \\ -1 & 0 & 0 & 0 & 0 & 0 \\ 0 & 0 & 0 & 0 & 0 & 0 \\ 0 & 0 & 0 & -1 & 0 & 0 \\ 0 & 0 & 0 & 0 & -2 & 0 \\ 0 & 0 & 0 & 0 & 0 & -3 \end{bmatrix} v$$

8ª Questão: Conclua (com justificativa) sobre a estabilidade assintótica do sistema linear invariante no tempo $\dot{v} = Av$ resolvendo a equação de Lyapunov $A'P + PA + 8I = 0$ para

$$A = \begin{bmatrix} 4 & -4 \\ 1 & 0 \end{bmatrix}$$

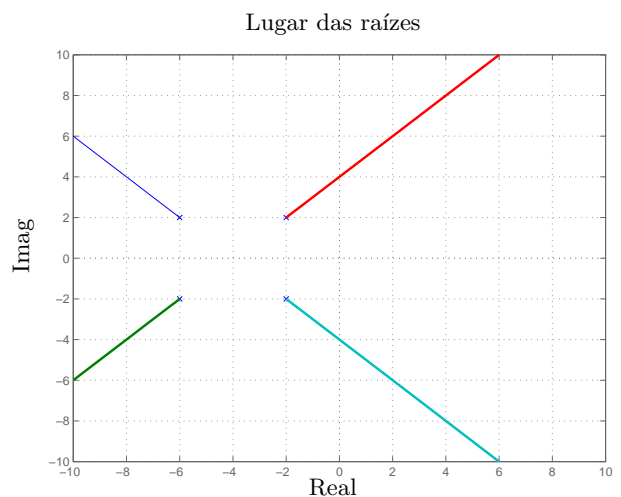
9ª Questão: Considere o sistema realimentado mostrado na figura com

$$H(s) = \frac{s + 2}{(s + 5)(s + 5 + 3j)(s + 5 - 3j)(s + 3)(s - 8)^2}$$



Esboce (nas folhas de papel almaço) o lugar das raízes para o sistema realimentado (eixo real e assíntotas), determinando o ponto de encontro das assíntotas

10ª Questão: No lugar de raízes mostrado na figura, com pólos em $-6 \pm 2j$ e $-2 \pm 2j$, determine o máximo valor para o ganho $k \in [0, +\infty)$ que garante a estabilidade do sistema em malha fechada.



$M_{dB}(\omega) = 20 \log M(\omega)$ sendo log o logaritmo na base 10

Lyapunov: Considere o sistema $\dot{v} = f(v)$. O ponto de equilíbrio $\bar{v} = 0$ é assintoticamente estável se existir um domínio Ω contendo a origem e uma função escalar $\psi(v)$ diferenciável tal que

$$\psi(0) = 0, \quad \psi(v) > 0 \quad \forall v \in \Omega - \{0\} \quad \text{e} \quad \dot{\psi}(v) = \frac{d}{dt}\psi(v) < 0 \quad \forall v \in \Omega - \{0\}$$

Lyapunov (SLIT): A solução da equação de Lyapunov $A'P + PA = -Q$, $\forall Q = Q' > 0$, é única, simétrica e definida positiva SSE todos os autovalores da matriz A tiverem parte real negativa (\equiv assintoticamente estável) Controlável se e somente se $\text{rank}(\text{Ctrb}(A, b)) = n$. Observável se e somente se $\text{rank}(\text{Obsv}(A, c)) = n$.

$$A \in \mathbb{R}^{n \times n}, \quad \text{Obsv}(A, c) = \begin{bmatrix} c \\ cA \\ \vdots \\ cA^{n-1} \end{bmatrix}, \quad \text{Ctrb}(A, b) = [b \quad Ab \quad \dots \quad A^{n-1}b]$$

Decomposição canônica: $\bar{v} = Pv$

Se rank de $\text{Ctrb}(A, b) = r < n$, P^{-1} é formada por colunas de 1 a r LI de $\text{Ctrb}(A, b)$ mais vetores LI

$$\begin{bmatrix} \dot{\bar{v}}_c \\ \dot{\bar{v}}_{\bar{c}} \end{bmatrix} = \begin{bmatrix} \bar{A}_c & \bar{A}_{12} \\ 0 & \bar{A}_{\bar{c}} \end{bmatrix} \begin{bmatrix} \bar{v}_c \\ \bar{v}_{\bar{c}} \end{bmatrix} + \begin{bmatrix} \bar{b}_c \\ 0 \end{bmatrix} x, \quad y = [\bar{c}_c \quad \bar{c}_{\bar{c}}] \begin{bmatrix} \bar{v}_c \\ \bar{v}_{\bar{c}} \end{bmatrix} + \bar{d}x$$

Se rank de $\text{Obsv}(A, c) = r < n$, P é formada por linhas de 1 a r LI de $\text{Obsv}(A, c)$ mais vetores LI

$$\begin{bmatrix} \dot{\bar{v}}_o \\ \dot{\bar{v}}_{\bar{o}} \end{bmatrix} = \begin{bmatrix} \bar{A}_o & 0 \\ \bar{A}_{21} & \bar{A}_{\bar{o}} \end{bmatrix} \begin{bmatrix} \bar{v}_o \\ \bar{v}_{\bar{o}} \end{bmatrix} + \begin{bmatrix} \bar{b}_o \\ \bar{b}_{\bar{o}} \end{bmatrix} x, \quad y = [\bar{c}_o \quad 0] \begin{bmatrix} \bar{v}_o \\ \bar{v}_{\bar{o}} \end{bmatrix} + \bar{d}x$$

Sensibilidade de $f(x, y)$ em relação a x : $\frac{x}{f} \frac{\partial f}{\partial x}$

Lugar das Raízes: $1 + kH(s) = 0$, $H(s) = N(s)/D(s) \Rightarrow D(s) + kN(s) = 0$

$$D(s) = \sum_{r=0}^m \alpha_r s^r, \quad \alpha_m = 1, \quad N(s) = \sum_{r=0}^{\ell} \beta_r s^r$$

1) Simetria em relação ao eixo real.

2) Os pólos e os zeros (finitos) de malha aberta fazem parte do lugar das raízes para, respectivamente, $k = 0$ e $k \rightarrow +\infty$.

3) Condição de fase: $\sum_{r=1}^{\ell} \varphi_r(s) - \sum_{r=1}^m \phi_r(s) = \pi$

sendo $\phi_r(s) = \angle(s - \lambda_r)$ o ângulo do vetor do pólo λ_r até o ponto s do lugar das raízes e $\varphi_r(s) = \angle(s - \gamma_r)$ o ângulo do vetor do zero γ_r até o ponto s do lugar das raízes.

4) Condição de módulo: $k = \left(\prod_{r=1}^m |s - \lambda_r| \right) / \left(\prod_{r=1}^{\ell} |s - \gamma_r| \right)$

5) Eixo real: O lugar das raízes no eixo real está sempre à esquerda de um número ímpar de pólos e zeros reais.

6) Ângulo de partida dos pólos: $\phi_i(s) \Big|_{s \approx \lambda_i} = \pi + \sum_{r=1}^{\ell} \varphi_r(s) - \sum_{r=1, r \neq i}^m \phi_r(s)$

7) Ângulo de chegada aos zeros: $\varphi_i(s) \Big|_{s \approx \gamma_i} = \sum_{r=1}^m \phi_r(s) - \sum_{r=1, r \neq i}^{\ell} \varphi_r(s)$

8) O número de assíntotas η é igual ao número de zeros no infinito, isto é, $\eta = m - \ell$

9) Ângulos das assíntotas: $\frac{\pi(1 + 2r)}{m - \ell}$, $\beta_\ell > 0$, $r \in \mathbb{Z}$

10) Encontro das assíntotas ($\eta \geq 2$): no eixo real no ponto $\frac{1}{\eta} \left(\sum_{r=1}^m \text{Re}(\lambda_r) - \sum_{r=1}^{\ell} \text{Re}(\gamma_r) \right)$

11) Cruzamento com o eixo real: Os pontos do lugar das raízes de chegada ou partida do eixo real, quando existem, satisfazem a equação $N(s)\dot{D}(s) = D(s)\dot{N}(s)$

12) Cruzamento com o eixo imaginário: ocorrem em $s = \pm j\omega$, com $\omega \geq 0$, solução de $D(s) + kN(s) = 0$