

**1ª Questão:** Determine a solução forçada para a entrada  $x = \cos(4t) + \sin(2t)$  do sistema linear invariante no tempo cuja realização  $(A, b, c, d)$  é dada por

$$\dot{v} = \begin{bmatrix} 0 & -9 \\ 1 & 0 \end{bmatrix} v + \begin{bmatrix} -8 \\ 0 \end{bmatrix} x$$

$$y = [0 \quad 1] v + [1] x$$

$$H(s) = \frac{s^2 + 1}{s^2 + 9}, \quad y_f(t) = |H(j4)| \cos(4t) + |H(j2)| \sin(2t) = \frac{15}{7} \cos(4t) - \frac{3}{5} \sin(2t)$$

**2ª Questão:** Determine os autovalores associados aos modos controláveis e não controláveis (justifique) para o sistema

$$\dot{v} = \begin{bmatrix} 4 & -1 \\ -2 & 5 \end{bmatrix} v + \begin{bmatrix} 1 \\ 1 \end{bmatrix} x, \quad \Delta(\lambda) = (\lambda - 3)(\lambda - 6)$$

Autovalores: 3 (controlável) e 6 (não controlável), pois

$$M_3 = \begin{bmatrix} 1 & -1 \\ -2 & 2 \end{bmatrix}, \quad \text{rank} \begin{bmatrix} 1 & -1 & 1 \\ -2 & 2 & 1 \end{bmatrix} = 2 \text{ (contr.)}, \quad M_6 = \begin{bmatrix} -2 & -1 \\ -2 & -1 \end{bmatrix}, \quad \text{rank} \begin{bmatrix} -2 & -1 & 1 \\ -2 & -1 & 1 \end{bmatrix} = 1 \text{ (não contr.)}$$

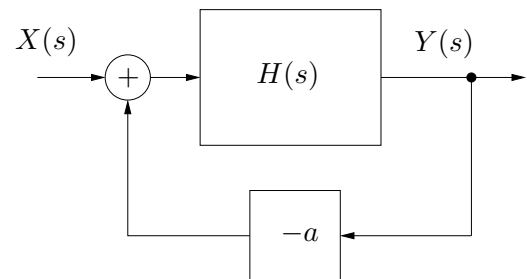
**3ª Questão:** Para o sistema linear invariante no tempo dado abaixo, determine os valores de  $\alpha$  e  $\beta$  (reais) para que o sistema seja observável

$$\dot{v} = \begin{bmatrix} 3 & 5 \\ 0 & 4 \end{bmatrix} v, \quad y = [\alpha \quad \beta] v$$

$$\text{Obsv}(A, c) = \begin{bmatrix} \alpha & \beta \\ 3\alpha & 5\alpha + 4\beta \end{bmatrix}, \quad \det(\text{Obsv}(A, c)) = 5\alpha^2 + \alpha\beta \neq 0, \quad \alpha \neq 0, \quad \beta \neq -5\alpha$$

**4ª Questão:** Determine a sensibilidade do ganho DC ( $s = 0$ ) do sistema em malha fechada em função do parâmetro  $a$ , para  $a = 5$

$$H(s) = \frac{s - 3a}{s^2 + 2as - 5a}$$



$$G(s) = \frac{s - 3a}{s^2 + 3as - 5a - 3a^2}, \quad \frac{\partial G}{\partial a} \frac{a}{G} = \frac{-a(6s^2 - 5s - 6as + 9a^2)}{(s - 3a)(s^2 + 3as - 5a - 3a^2)} \Big|_{s=0} = \frac{-3a}{5 + 3a} \Big|_{a=5} = -3/4$$

**5ª Questão:** Utilizando a tabela de Routh-Hurwitz, determine quantas raízes do polinômio  $D(s)$  possuem parte real positiva. Justifique a resposta.

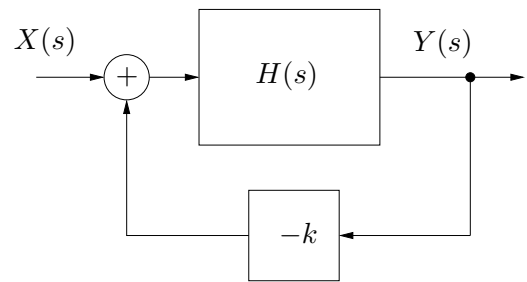
$$D(s) = s^5 + s^4 + 5s^3 + 4s^2 + 10s + 2$$

$s^5$	1	5	10
$s^4$	1	4	2
$s^3$	1	8	
$s^2$	-4	2	
$s$	34/4		
1	2		

Dois trocas de sinal  $\Rightarrow$  duas raízes com parte real positiva.

**6ª Questão:** Determine o intervalo para  $k$  tal que o sistema em malha fechada mostrado na figura seja BIBO estável

$$H(s) = \frac{s^2 - s}{2s^3 + 6s^2 + 3s + 7}$$



$$D(s) = 2s^3 + (k+6)s^2 + (3-k)s + 7, \quad -4 < k < 1$$

**7ª Questão:** O sistema linear invariante no tempo dado abaixo é estável, assintoticamente estável ou instável? Justifique

$$\dot{v} = \begin{bmatrix} 0 & -1 & 1 & 0 & 0 & 0 & 0 & 0 \\ 1 & 0 & 0 & 1 & 0 & 0 & 0 & 0 \\ 0 & 0 & 0 & -1 & 0 & 0 & 0 & 0 \\ 0 & 0 & 1 & 0 & 0 & 0 & 0 & 0 \\ 0 & 0 & 0 & 0 & 0 & -2 & 0 & 0 \\ 0 & 0 & 0 & 0 & 2 & 0 & 0 & 0 \\ 0 & 0 & 0 & 0 & 0 & 0 & 0 & -2 \\ 0 & 0 & 0 & 0 & 0 & 0 & 2 & 0 \end{bmatrix} v$$

Instável, pois possui um bloco modal de Jordan de autovalores  $\pm j$

**8ª Questão:** O sistema linear invariante no tempo  $\dot{v} = Av$  analisado com a função de Lyapunov  $\psi(v) = v'Pv$  produziu

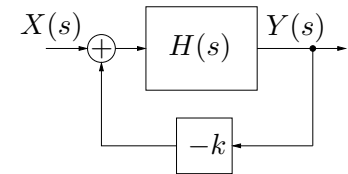
$$P = \begin{bmatrix} 10 & -\alpha \\ -\alpha & 3 \end{bmatrix}, \quad A'P + PA = \begin{bmatrix} -5 & -\beta \\ -\beta & -3 \end{bmatrix}$$

Para que valores de  $\alpha$  e  $\beta$  reais o sistema é assintoticamente estável?

$$P > 0 \Rightarrow 30 - \alpha^2 > 0 \Rightarrow -\sqrt{30} < \alpha < \sqrt{30},$$

$$A'P + PA < 0 \Rightarrow -(A'P + PA) > 0 \Rightarrow 15 - \beta^2 > 0 \Rightarrow -\sqrt{15} < \beta < \sqrt{15}$$

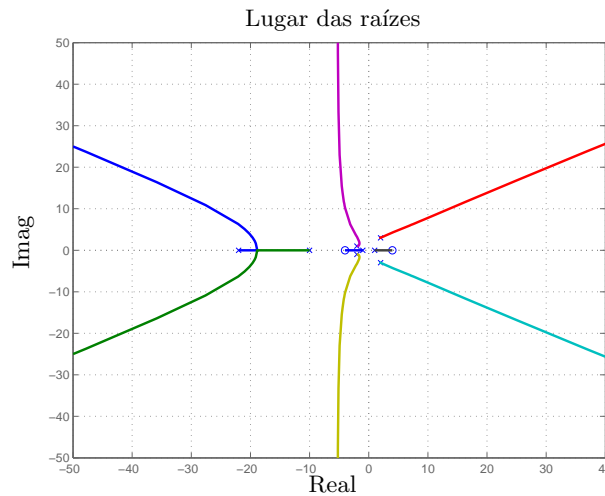
**9ª Questão:** Considere o sistema realimentado mostrado na figura com



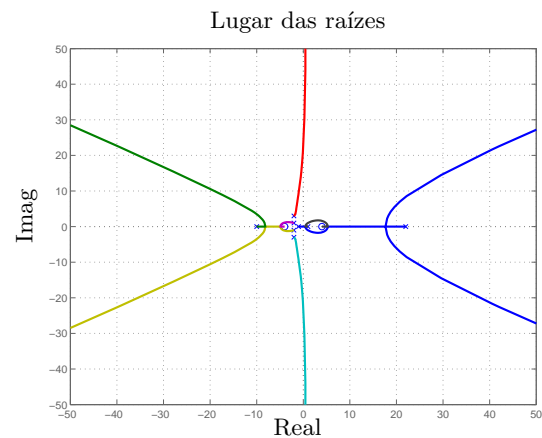
$$H(s) = \frac{(s+4)(s-4)}{(s-1)(s+1)(s+10)(s-22)(s+2+j)(s+2-j)(s+2+3j)(s+2-3j)}$$

Esboce (nas folhas de papel almaço) o lugar das raízes para o sistema realimentado (eixo real e assíntotas), determinando o ponto de encontro das assíntotas

$$\frac{\pi}{6}, \frac{\pi}{2}, \frac{5\pi}{6}, \frac{-\pi}{6}, \frac{-\pi}{2}, \frac{-5\pi}{6} \quad (-2 - 2 - 1 + 1 - 2 - 2 - 10 + 22 - (-4 + 4))/6 = 4/6 = 2/3$$



**10ª Questão:** No lugar de raízes mostrado na figura, com polos em 1 e  $-1 \pm 4j$ , determine o intervalo para o ganho  $k \in [0, +\infty)$  que garanta a estabilidade do sistema em malha fechada, considerando que os cruzamentos com o eixo imaginário ocorrem em  $0, j4$  e  $-j4$ .



Ponto 0:  $1\sqrt{17}\sqrt{17} = 17$ , Pontos  $\pm j4$ :  $1\sqrt{17}\sqrt{65}$

$$17 < k < \sqrt{17}\sqrt{65}$$